



UNIUNEA EUROPEANĂ



Instrumente Structurale  
2014-2020

Proiect cofinanțat din Fondul Social European prin Programul Operațional Capital Uman 2014-2020

Axa prioritară 6: *Educație și competențe*

Prioritatea de investiții 10.i: *Reducerea și prevenirea abandonului școlar timpuriu și promovarea accesului egal la învățământul preșcolar, primar și secundar de calitate, inclusiv la parcursuri de învățare formale, nonformale și informale pentru reintegrarea în educație și formare*

Obiectivul specific 6.4: *Creșterea numărului de tineri care au abandonat școala și de adulți care nu și-au finalizat educația obligatorie care se reîntorc în sistemul de educație și formare, inclusiv prin programe de tip a doua șansă și programe de formare profesională*

Obiectivul specific 6.6: *Îmbunătățirea competențelor personalului didactic din învățământul preuniversitar în vederea promovării unor servicii educaționale de calitate orientate pe nevoile elevilor și a unei școli inclusive*

Titlu proiect: *“Acces la programe de educație și formare profesională pentru tinerii și adulții din județul Dolj care au părăsit timpuriu școala (II)”*

Cod SMIS 2014+: 135712

## **MATERIALE DE PREDARE-ÎNVĂȚARE**

### **Disciplina: GEOGRAFIE**

#### **Modulul 1**

### **RECAPITULARE M1 - SPAȚIUL GEOGRAFIC**

#### **Program „A doua șansă” pentru învățământ secundar inferior**

#### **Versiune finală**

**CIOBANU MARIA**

**Expert curriculum (Geografie)**

*Semnătura expertului*

**Mai 2022**

*Conținutul acestui material nu reprezintă în mod obligatoriu poziția oficială a Uniunii Europene sau a Guvernului României*



## RECAPITULARE M1 - SPAȚIUL GEOGRAFIC

### COMPETENȚA GENERALĂ: *Orientarea în spațiu și timp*

Competența specifică 1.2. Argumentarea unui demers explicativ

### Aplică

I. Sistemul Solar este alcătuit din ----- și -----

-----

II. Completați spațiile libere cu răspunsurile corespunzătoare:

- 1) Universul observabil se numește.....
- 2) Soarele ocupă din întreaga masă a sistemului nostru planetar.....
- 3) Forma galaxiei noastre este de .....
- 4) Forma Terrei este de .....
- 5) Sistemul Solar a luat naștere dintr-o .....
- 6) Meteorii care se consumă în totalitate în atmosferă se numesc.....

III. Încercuiți răspunsul corect:

- 1) Sunt alcătuite din cap și coadă:  
a. planetele; b. stelele; c. cometele; d. nebuloasele.
  
- 2) Soarele se află față de centrul Galaxiei la o distanță, măsurată în ani lumina, de:  
a. 20000; b. 50000; c. 100000; d. 30000.
  
- 3) Densitatea Soarelui este de:



- a.  $1,4 \text{ g/cm}^3$     b.  $5,52 \text{ g/cm}^3$     c.  $2 \text{ g/cm}^3$     d.  $17 \text{ g/cm}^3$

4) Vârsta Universului este de aproximativ:

- a. 4,5 mld.ani;    b. 15 mld.ani;    c. 10 mld.ani;    d. 15 mil.ani

IV. Completați schema structurii Soarelui:

1.....

a.....

b.....

c.....

2.....

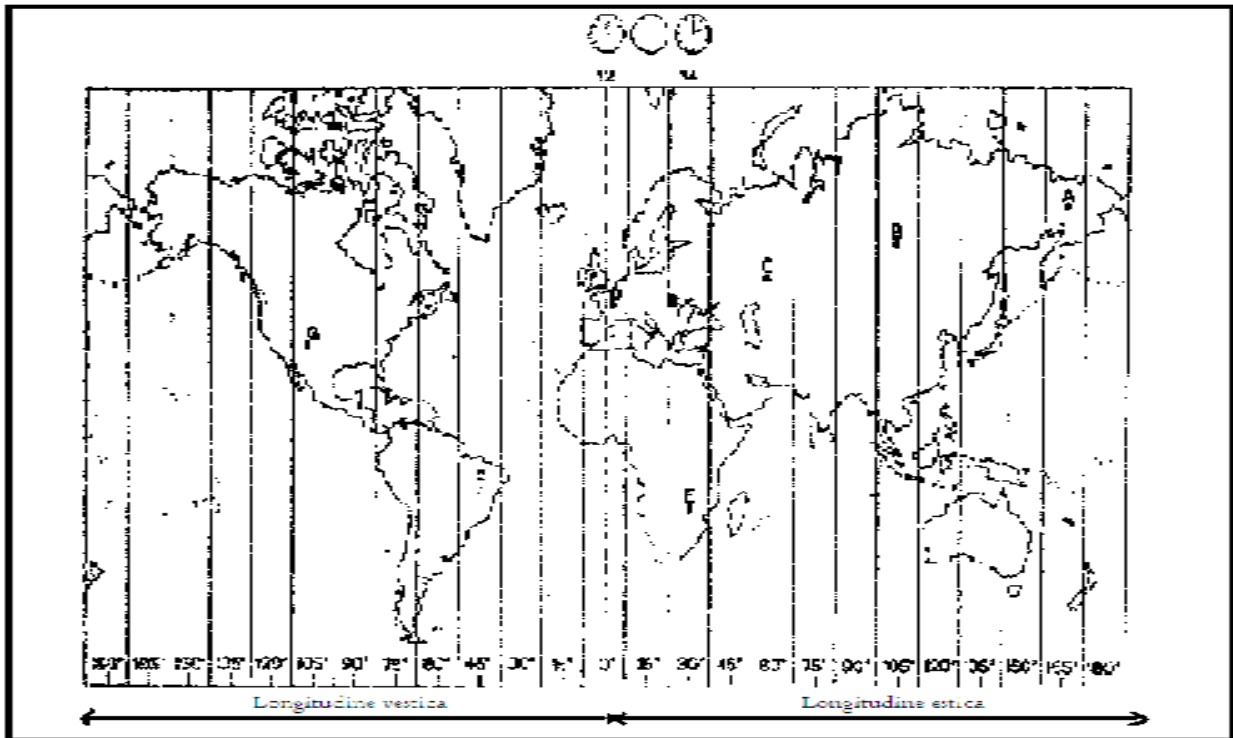
a.....

b.....

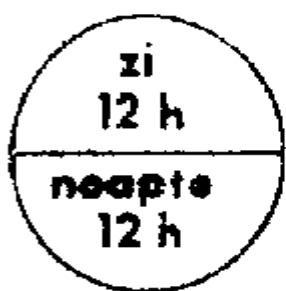



c.....

V. Folosindu-vă de harta de mai jos, completați spațiile punctate din următoarele rânduri cu informația corespunzătoare.

Când la București este ora 14, în punctul A este ora....., în punctul B este ora ....., în punctul C este ora....., în punctul D este ora....., în punctul E este ora ....., în punctul F este ora....., în punctul G este ora .....



VI. Scrieți în fiecare casetă liberă anotimpul cărui-a-i corespunde raportul între zi și noapte din fiecare cerculeț:

			
<input type="text"/>	<input type="text"/>	<input type="text"/>	<input type="text"/>